



“COLEGIO BILINGÜE DEL REY”
CLAVE 02PPR0366F
CICLO ESCOLAR: 2017-2018
GUÍA DE ESTUDIO 4TO GRADO
CUARTO BIMESTRE MARZO - ABRIL

Español

Lee las siguientes preguntas y responde.

1.- ¿Cuál es el propósito de un anuncio publicitario?

2.- ¿Cuáles son algunas de las características de la publicidad impresa?

3.- ¿Qué información podemos encontrar en un empaque de algún producto?

4.- ¿Qué características tienen los textos de una enciclopedia?

5.- Elabora un anuncio publicitario con las características necesarias

6.- Las fotografías, ilustraciones, esquemas, diagramas, tablas, graficas o mapas que acompañan a los textos expositivos son:

7.- Resumen al máximo la información, por lo general las escriben diferentes personas, no incluye opiniones personales, utiliza un lenguaje claro para facilitar su comprensión, son características de:

8.- ¿Cuáles son las tres partes o etapas de los textos narrativos como fabulas, moralejas y cuentos?

9.- Las leyendas, cuentos y fabulas suelen contarse en tiempo:

10.- En las obras literarias ¿Qué son los diálogos?



“COLEGIO BILINGÜE DEL REY”
CLAVE 02PPR0366F
CICLO ESCOLAR: 2017-2018
GUÍA DE ESTUDIO 4TO GRADO
CUARTO BIMESTRE MARZO - ABRIL

11.- ¿Cuáles son los dos tipos de diálogos que existen?

12.- ¿Cuál es el acento gráfico?

13.- ¿En qué sílaba se acentúan las palabras graves?

14.- ¿En qué sílaba se acentúan las palabras agudas?

15.- ¿En qué sílaba se acentúan las palabras esdrújulas?

16.- Las sílabas se comienzan a contar de:

a) izquierda a derecha b) derecha a izquierda

17.- ¿Para qué se utilizan los formatos de registro o las solicitudes?

18.- Generalmente, ¿Qué datos solicitan en un formato de registro o una solicitud?

19.- ¿Cuáles son las cuatro partes en las que se estructura este formato?



“COLEGIO BILINGÜE DEL REY”
CLAVE 02PPR0366F
CICLO ESCOLAR: 2017-2018
GUÍA DE ESTUDIO 4TO GRADO
CUARTO BIMESTRE MARZO - ABRIL

Matemáticas

Lee las instrucciones y realiza lo que se te pide

1.- Acomoda y resuelve las siguientes multiplicaciones

$340 \times 145 =$ $582 \times 352 =$ $521 \times 174 =$ $360 \times 203 =$

2.- Rodea las operaciones con las que se puede dar solución a cada problema

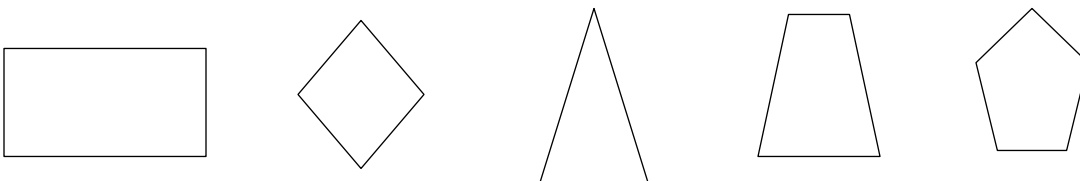
Antonio preparó 3 charolas de panecillos. En dos de ellas preparó 15 panecillos, en la otra preparó 12. ¿Cuántos panecillos horneó en total?

- a) 15×2 b) 12×1 c) $15 \times 3 \times 2$ d) $30 + 12$

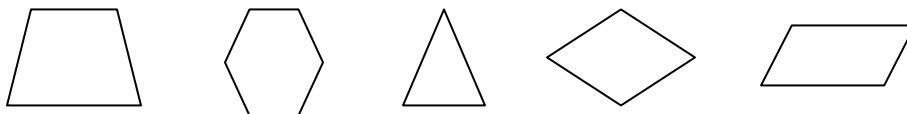
Fernando tiene 6 colecciones de carritos. 4 de esas colecciones consta de 25 carritos y las otras dos de 30 carritos. ¿Cuántos carritos tiene en total?

- a) 4×25 b) 30×4 c) 2×30 d) $100 + 60$

3.- Escribe el nombre de las figuras geométricas



4.- Rodea con rojo las figuras que tienen la misma cantidad de lados, con verde la figura con mayor cantidad de lados y con anaranjado la figura de menor cantidad de lados.



Lee con atención y responde

5.- Los cuadriláteros que tienen dos pares de lados paralelos se llaman:

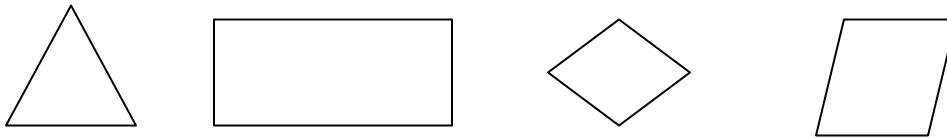
6.- Los paralelogramos tienen dos :



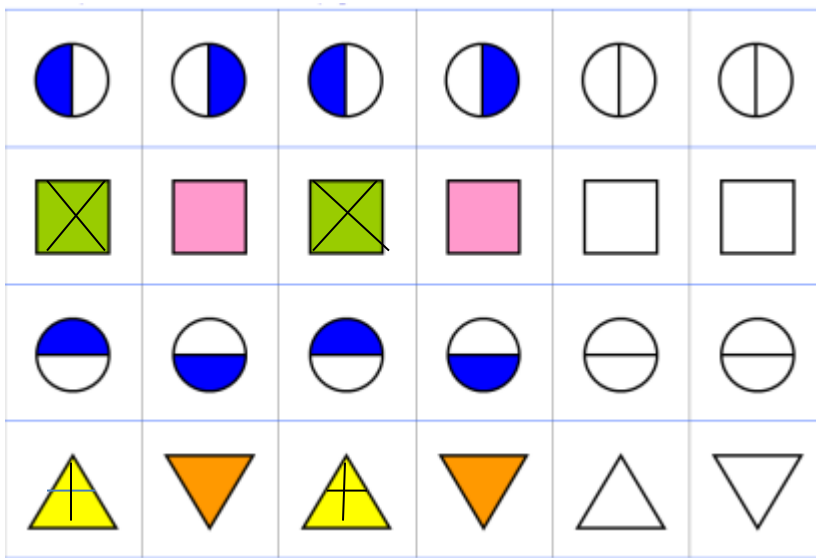
“COLEGIO BILINGÜE DEL REY”
CLAVE 02PPR0366F
CICLO ESCOLAR: 2017-2018
GUÍA DE ESTUDIO 4TO GRADO
CUARTO BIMESTRE MARZO - ABRIL

7.- Dibuja 3 paralelogramos

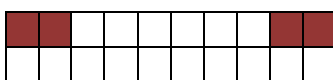
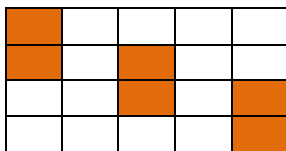
8.- traza los ejes de simetría en las siguientes figuras y anota cuantos tiene cada una.



9.- Completa la serie

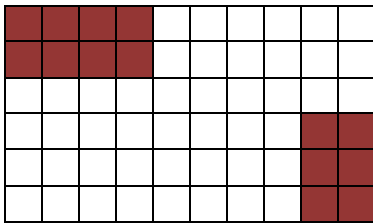


10.- Anota que fracción se representa en cada figura



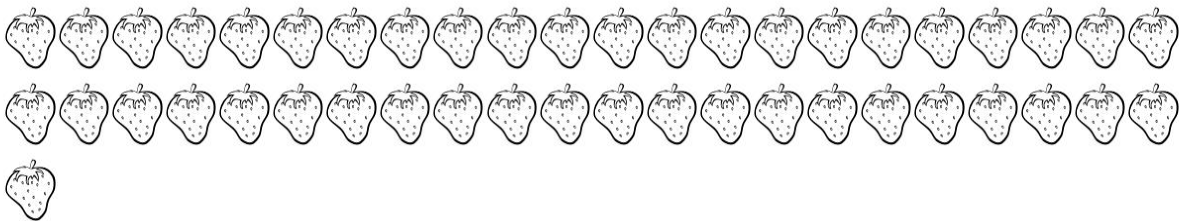


“COLEGIO BILINGÜE DEL REY”
CLAVE 02PPR0366F
CICLO ESCOLAR: 2017-2018
GUÍA DE ESTUDIO 4TO GRADO
CUARTO BIMESTRE MARZO - ABRIL



11.- Agrupa las fresas como se indica

Estas fresas deben guardarse en 5 cajas que contengan el mismo número de piezas.

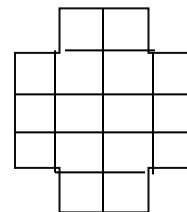
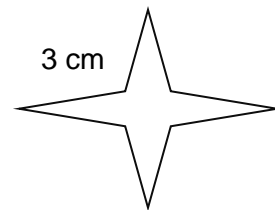

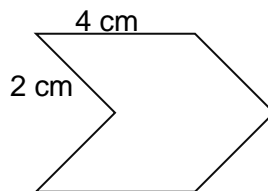
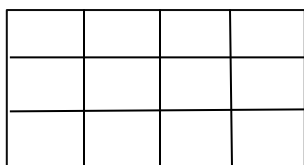
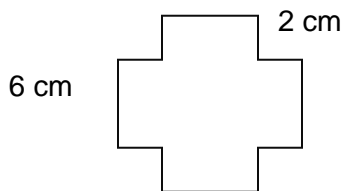


Lee con atención los siguientes problemas, resuelve y anota las operaciones necesarias.

12.- Ana horneó 155 galletas, ¿cuantos paquetes de 8 galletas puede formar?

13.- Juan tiene 456 dulces para dar a 12 de sus primos, si quiere dar la misma cantidad a cada uno ¿Cuántos dulces debe darles?

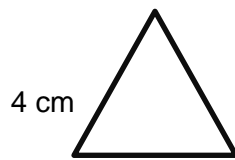
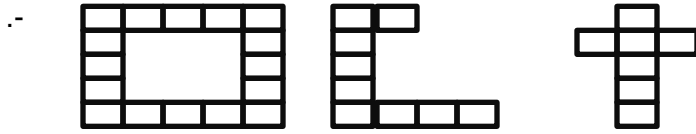
14.- Calcula el perímetro de las siguientes figuras



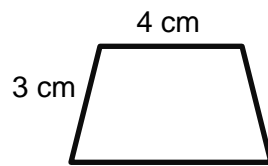


“COLEGIO BILINGÜE DEL REY”
CLAVE 02PPR0366F
CICLO ESCOLAR: 2017-2018
GUÍA DE ESTUDIO 4TO GRADO
CUARTO BIMESTRE MARZO - ABRIL

15.- Calcula el área de las siguientes figuras



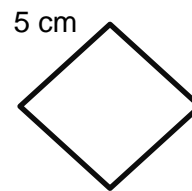
4 cm



3 cm

4 cm

6 cm



5 cm



“COLEGIO BILINGÜE DEL REY”
CLAVE 02PPR0366F
CICLO ESCOLAR: 2017-2018
GUÍA DE ESTUDIO 4TO GRADO
CUARTO BIMESTRE MARZO - ABRIL

GEOGRAFIA

Lee detenidamente y responde .

- 1.- ¿Qué es la migración?
- 2.-¿En qué estado hay mayor variedad de lenguas indígenas?
- 3.-¿Cuáles son las actividades agrícolas?
- 4.-¿Cuáles son las actividades pesqueras?
- 5.-¿Cuáles son las actividades forestales?
- 6.-¿Cuáles son las actividades pecuarias?
- 7.- ¿Cuáles son los dos cultivos que representan para México la mayor importancia económica?
- 8.-¿Cuáles son los productos más importantes que se cultivan en México?
- 9.-¿Qué son las leguminosas?
- 10.-¿Cuáles son los tipos de fruta que existen según el clima?
- 11.-¿Qué son las hortalizas?



“COLEGIO BILINGÜE DEL REY”
CLAVE 02PPR0366F
CICLO ESCOLAR: 2017-2018
GUÍA DE ESTUDIO 4TO GRADO
CUARTO BIMESTRE MARZO - ABRIL

12.- El maíz, trigo, cebada, avena y soya ¿Son?

13.-El frijol, garbanzo, chícharo y lentejas ¿son?

14.- Dibuja 4 frutas

15.-¿Qué es la emigración?



“COLEGIO BILINGÜE DEL REY”
CLAVE 02PPR0366F
CICLO ESCOLAR: 2017-2018
GUÍA DE ESTUDIO 4TO GRADO
CUARTO BIMESTRE MARZO - ABRIL

HISTORIA

- 1.-¿Por qué se llama América nuestro continente?

- 2.-¿Cuánto tiempo pasó desde la creación de la Primera Real Audiencia hasta el establecimiento del virreinato de Nueva España?

- 3.-¿ Qué productos llegaban de Europa?

- 4.-¿Qué productos llegaban de Asia?

- 5.-¿Cuáles fueron los grupos que integraron inicialmente la sociedad de Nueva España?

- 6.-¿Por qué disminuyó la población indígena?

- 7.-¿De donde eran traídos los esclavos?

- 8.-¿Cómo se formaban las castas?

- 9.-¿Quiénes eran los peninsulares?

- 10.-¿En qué actividades trabajaban indígenas y mestizos?

- 11.-¿En donde convivían los grupos sociales de Nueva España?



“COLEGIO BILINGÜE DEL REY”
CLAVE 02PPR0366F
CICLO ESCOLAR: 2017-2018
GUÍA DE ESTUDIO 4TO GRADO
CUARTO BIMESTRE MARZO - ABRIL

12.-¿Qué juguetes utilizaban los infantes en la época virreinal?

13.-¿Quiénes son los mestizos?

14.-¿Quiénes son los mulatos?

15.-¿Quiénes son los criollos?



“COLEGIO BILINGÜE DEL REY”
CLAVE 02PPR0366F
CICLO ESCOLAR: 2017-2018
GUÍA DE ESTUDIO 4TO GRADO
CUARTO BIMESTRE MARZO - ABRIL

CIENCIAS NATURALES

Lee con atención las siguientes preguntas y responde.

- 1.- Menciona 3 superficies en las que puedas ver reflejada tu imagen:

- 2.- ¿Qué es lo que hace que se refleje tu imagen sobre algunas superficies?

- 3.- ¿Qué es la reflexión de la luz?

- 4.-¿Qué es la refracción de la luz?

- 5.- Realiza el dibujo de la reflexión de la luz y la refracción de la luz

- 6.-¿Qué es la luz?

- 7.-¿Qué materiales reflejan poca luz?



“COLEGIO BILINGÜE DEL REY”
CLAVE 02PPR0366F
CICLO ESCOLAR: 2017-2018
GUÍA DE ESTUDIO 4TO GRADO
CUARTO BIMESTRE MARZO - ABRIL

8.-¿Qué es la fibra óptica?

9.-¿Para qué es utilizada la fibra óptica?

10.- La electrización de un cuerpo se logra mediante

11.-¿Cuál es el nombre del filósofo que descubrió la electricidad?

12.-¿Por qué se le llamó electricidad?

13.- En la electrización, ¿en qué consiste el frotamiento? Ocurre al frotar un cuerpo con otro

14.- En la electrización, ¿en qué consiste el contacto? Cuando un cuerpo ya electrizado toca a otro y le transfiere la electrización.

15.- En la electrización, ¿en qué consiste la inducción? Ocurre a distancia cuando se aproxima un cuerpo electrizado a otro.



“COLEGIO BILINGÜE DEL REY”
CLAVE 02PPR0366F
CICLO ESCOLAR: 2017-2018
GUÍA DE ESTUDIO 4TO GRADO
CUARTO BIMESTRE MARZO - ABRIL

FORMACIÓN CÍVICA Y ÉTICA

Lee con atención y responde.

1.- ¿Qué es la diversidad de culturas?

2.- ¿Qué es una ley?

3.- ¿Qué establece la Constitución Política de los Estados Unidos Mexicanos?

4.- Menciona tres derechos

5.- Menciona tres obligaciones

6.- ¿En qué año fue promulgada la Constitución Política de los Estados Unidos Mexicanos?

7.- ¿Qué es un derecho?

8.- ¿Qué es una obligación?

9.- El poder político se ejerce a través de:

10.- ¿De qué se encarga el Poder Legislativo?



“COLEGIO BILINGÜE DEL REY”
CLAVE 02PPR0366F
CICLO ESCOLAR: 2017-2018
GUÍA DE ESTUDIO 4TO GRADO
CUARTO BIMESTRE MARZO - ABRIL

11.-¿De qué se encarga el Poder Ejecutivo?

12.-¿De qué se encarga el Poder Judicial?